

**УПРАВЛЕНИЕ ОБРАЗОВАНИЯ И ПО ДЕЛАМ МОЛОДЕЖИ
ИСПОЛНИТЕЛЬНОГО КОМИТЕТА ГОРОДА НАБЕРЕЖНЫЕ ЧЕЛНЫ
ГОСУДАСТВЕННАЯ ИНСПЕКЦИЯ БЕЗОПАСНОСТИ ДОРОЖНОГО
ДВИЖЕНИЯ Г.НАБЕРЕЖНЫЕ ЧЕЛНЫ**

МАУ ДО «ДЕТСКО-ЮНОШЕСКИЙ ЦЕНТР №14»

***ИНТЕЛЛЕКТУАЛЬНО-
ПОЗНАВАТЕЛЬНАЯ ИГРА
«#ПЕРЕЗАГРУЗКА»***

ГП «ТЕРРИТОРИЯ ОСМЫСЛЕНИЯ»

2019 г.

ПРОСМОТР ФИЛЬМА

1. В зоне действия каких знаков был сбит мальчик?

А) «Искусственная неровность» и «Ограничение скорости 20 км/ч»

Б) «Искусственная неровность» и «Ограничение скорости 40 км/ч»

В) «Дети» и «Ограничение скорости 40 км/ч»

2. Чем готов был пожертвовать водитель, чтобы искупить свою вину?

А) Квартирой

Б) дачей

В) жизнью


ПРОСМОТР ФИЛЬМА

3. Какую причину наезда озвучивает водитель мальчику в больнице?

А) « Я разговаривал по мобильному телефону за рулем и отвлекся»

Б) «Ты был в темной одежде и у тебя не было световозвращающих элементов на одежде»

В) «Ты так резко выбежал. Я тебя не заметил»



4. Почему герой фильма оказался в пустой чужой квартире?

А) продал жилье, чтобы материально помочь семье пострадавшего мальчика

Б) скрывался от следствия

В) прятался от возмездия родителей мальчика

5. Каким образом в руках у матери пострадавшего мальчика оказался пистолет?

А) достала из сейфа

Б) достала из кобуры

В) достала из шкатулки.

ВЕЛОСИ
ПЕДИСТ

1

2

3

4

ПЕШЕХОД

1

2

3

4

ПРАКТИКА ЗА
РУБЕЖОМ

1

2

3

4

ВОДИТЕЛЬ

1

2

3

4

МЕДИЦИ
НА

1

2

3

4


ВЕЛОСИПЕДИСТ

1. УСТРОЙСТВО ВЕЛОСИПЕДА



2. ЧТО ОЗНАЧАЕТ ЭТОТ ЖЕСТ ВЕЛОСИПЕДИСТА?

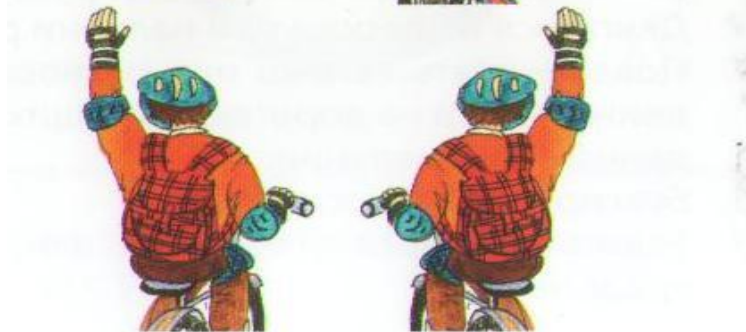
1



2



3



**Сигнал
левого
поворота**

**Сигнал
правого
поворота**

**Сигнал
Остановки
или
Торможение**



3. ГДЕ И КАКОГО ЦВЕТА ДОЛЖНЫ РАСПОЛАГАТЬСЯ КАТАФОТЫ НА ВЕЛОСИПЕДЕ?

СПЕРЕДИ- БЕЛЫЕ
СВЕТООТРАЖАТЕЛИ.

СЗАДИ – КРАСНЫЕ
СВЕТООТРАЖАТЕЛИ.

ПО БОКАМ (НА КОЛЕСАХ) –
ОРАНЖЕВЫЕ

СВЕТООТРАЖАТЕЛИ.



4. НАРУШАЮТ ЛИ ВЕЛОСИПЕДИСТЫ ПРАВИЛА ДОРОЖНОГО ДВИЖЕНИЯ?

1. ДА





2. НЕТ, ТАК КАК ЕДУТ ПО ПЕШЕХОДНОМУ ПЕРЕХОДУ





1. КАКИЕ ИЗ ПЕРЕЧИСЛЕННЫХ СИТУАЦИЙ МОГУТ СТАТЬ ПРИЧИНАМИ ДТП?

- 1. *Переход дороги в неустановленном месте***
- 2. *Игры на проезжей части***
- 3. *Хожждение по проезжей части***
- 4. *Все ответы верны*** 



2. В 1681 году по одной из улиц Одессы, пыхтя и громыхая, двигался странный экипаж, который вызвал всеобщее изумление и смятение. Пешеходы в испуге жались к стенам домов. По внешнему виду экипаж был похож на обыкновенную коляску. Что это было?

АВТОМОБИЛЬ

3. КАК НУЖНО ИДТИ ПО ЗАГОРОДНОЙ ДОРОГЕ?

1. по обочине или краю дороги по ходу движения транспорта

2. по обочине или краю дороги навстречу движению транспорта ←

3. только большими группами людей

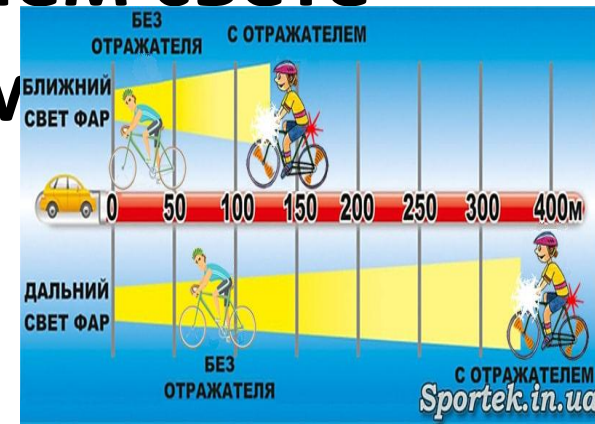
4. как тебе удобно



4. С КАКОГО РАССТОЯНИЯ ВИДЕН ПЕШЕХОД ВОДИТЕЛЮ, НА КОТОРОМ ЕСТЬ СВЕТООТРАЖАЮЩИЕ ЭЛЕМЕНТЫ ?

1. должен быть виден с дистанции 300-400 метров, в дальнем свете фар и 130-150 м. - в ближнем. ←


2. должен быть виден с дистанции 150-200 метров, в дальнем свете фар и 100 м. - в ближнем



1. НА ТАКУЮ «ШАЛОСТЬ» РОССИЙСКИЕ СТРАЖИ ПОРЯДКА НА ДОРОГАХ ВНИМАНИЯ ПРАКТИЧЕСКИ НЕ ОБРАЩАЮТ, ОДНАКО ИХ МАЛАЗИЙСКИЕ И СИНГАПУРСКИЕ КОЛЛЕГИ СЧИТАЮТ ЭТО ВО ВРЕМЯ ВОЖДЕНИЯ АВТОМОБИЛЯ СЕРЬЕЗНЫМ ПРЕСТУПЛЕНИЕМ. ЗА ЭТО ГРОЗИТ ШТРАФ В 280 ДОЛЛАРОВ ИЛИ ТЮРЕМНОЕ ЗАКЛЮЧЕНИЕ НА СРОК ДО 3 ЛЕТ! А В БОЛГАРИИ ЭТО ЗАПРЕЩАЕТСЯ ДАЖЕ ПАССАЖИРАМ АВТОБУСОВ.

РАЗГОВОР ПО МОБИЛЬНОМУ ТЕЛЕФОНУ





2. Существует легенда о том, как появился самый первый автомобильный номер. В 1901 г. один берлинский торговец установил на своем автомобиле номер, состоящий из двух букв – ИА и цифры. Что означает данный номерной знак?

Торговец влюбился, его номер состоял из инициалов любимой девушки – Иоганны Анкер

3. В КАКОЙ СТРАНЕ ПРИНЯТО ЛЕВОСТОРОНЕЕ ДВИЖЕНИЕ?

1. *Россия*
2. *Япония*
3. *Франция*



4. КОГДА И ГДЕ ПОЯВИЛСЯ ПЕРВЫЙ ДОРОЖНЫЙ СВЕТОФОР ?

1. *Лондон 1868*
2. *Франция 1878*
3. *Италия 1869*





**1. ЧТО ВЫПОЛНЯЛО ФУНКЦИЮ ЖЕЗЛА
В НАЧАЛЕ XX ВЕКА?**

1. ЗОНТИК;

2. ФОНАРЬ;

3. ТРОСТЬ



2. С ДРЕВНИХ ВРЕМЕН ЧЕЛОВЕК ИСПОЛЬЗОВАЛ ДЛЯ ПЕРЕДВИЖЕНИЯ РАЗЛИЧНЫХ ЖИВОТНЫХ. КОГДА ПОЯВИЛИСЬ ПЕРВЫЕ АВТОМОБИЛИ, ПРИДУМАЛИ СРАВНИВАТЬ МОЩНОСТЬ ИХ ДВИГАТЕЛЕЙ С СИЛОЙ ИМЕННО ЭТОГО ЖИВОТНОГО. КАКОГО?

- 1. Собака***
- 2. Слон***
- 3. Лошадь*** ←



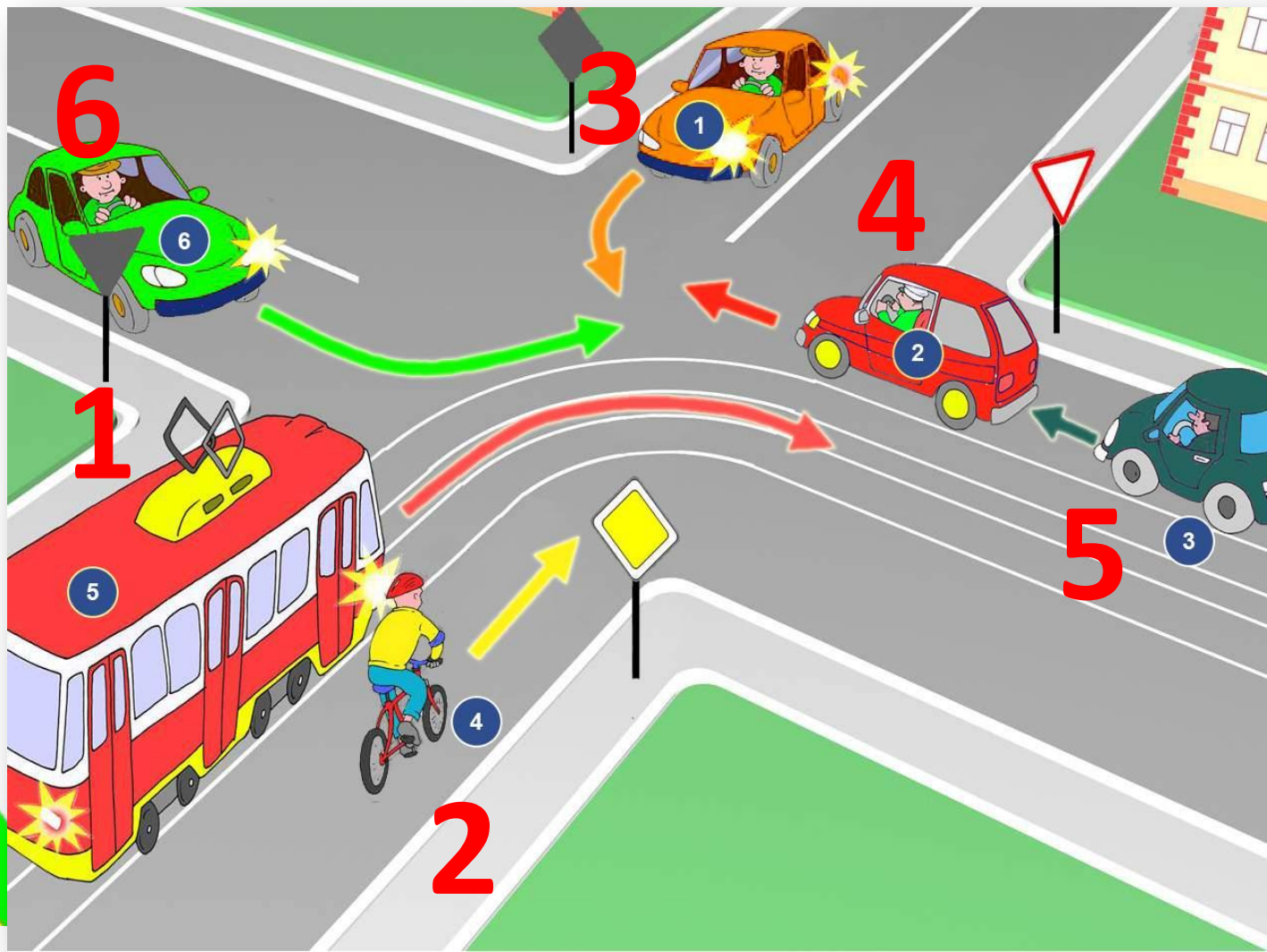
3. КАК ДОЛЖЕН ПОСТУПИТЬ ВОДИТЕЛЬ АВТОМОБИЛЯ, ПРИБЛИЖАЮЩЕГОСЯ К НЕРЕГУЛИРУЕМОМУ ПЕШЕХОДНОМУ ПЕРЕХОДУ, ГДЕ НАХОДЯТСЯ ПЕШЕХОДЫ?

1. Снизить скорость и остановиться, чтобы пропустить пешеходов; 

2. Снизить скорость до 30 км/ч и проехать переход;

3. Подавая сигнал миганием света фар, продолжить движение с особой осторожностью.

4. ОПРЕДЕЛИТЕ ОЧЕРЕДНОСТЬ ПРОЕЗДА ПЕРЕКРЕСТКА



1. СКОЛЬКО УДАРОВ В МИНУТУ БЬЕТСЯ СЕРДЦЕ ВЗРОСЛОГО ЧЕЛОВЕКА?

- 1. от 60-80 ударов в минуту;*
- 2. от 80-100 ударов в минуту;*
- 3. от 100-120 ударов в минуту*



2. ЧТО НАХОДИТСЯ В ЧЕРНОМ ЯЩИКЕ?



3. УКОМПЛЕКТОВАННОСТЬ АПТЕЧКИ



4. Какую часть конечности требуется зафиксировать при переломе пальца ноги?

- 1. Только поврежденный палец;**
- 2. Полностью ступню поврежденной ноги, включая травмированный палец;**
- 3. Ступню поврежденной ноги и голени**

